

BAC BLANC COMMUNAL
 Avril 2008

Epreuve de **MATHEMATIQUES**

Série : **C**

Durée : 4 heures

Coefficient : 5

EXERCICE 1 (4 points)

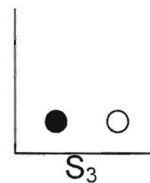
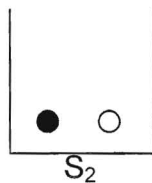
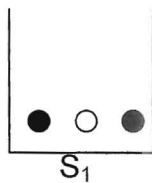
On désigne par n un entier naturel supérieur ou égal à 2.

On imagine n sacs de jetons S_1, \dots, S_n .

Au départ, le sac S_1 contient 2 jetons noirs et 1 jeton blanc, et chacun des autres sacs contient 1 jeton noir et 1 jeton blanc.

On se propose d'étudier l'évolution des tirages successifs d'un jeton de ces sacs, effectués de la façon suivante :

- Première étape : on tire au hasard 1 jeton de S_1 .
- Deuxième étape : on place ce jeton dans S_2 et on tire, au hasard, un jeton de S_2 .
- Troisième étape : après avoir placé dans S_3 le jeton sorti de S_2 , on tire au hasard, un jeton de S_3 et ainsi de suite



Pour tout entier k tel que $1 \leq k \leq n$, on note E_k l'événement : « le jeton sorti de S_k est blanc » et $\overline{E_k}$ l'événement contraire.

1. a) Déterminer la probabilité de E_1 , notée $P(E_1)$ et les probabilités conditionnelles : $P(E_2 / E_1)$ et $P(E_2 / \overline{E_1})$.

En déduire la probabilité de E_2 , notée $P(E_2)$.

- b) Pour tout entier naturel k tel que $1 \leq k \leq n$, la probabilité de E_k est notée P_k .

Justifier la relation de récurrence suivante : $P_{k+1} = \frac{1}{3}P_k + \frac{1}{3}$.

2. Etude d'une suite (U_k) :

On note (U_k) la suite définie par : $U_1 = \frac{1}{3}$ et pour tout $k \geq 1$ $U_{k+1} = \frac{1}{3}U_k + \frac{1}{3}$.

- a) On considère la suite (V_k) définie par, pour tout élément k de \mathbb{N}^* , $V_k = U_k - \frac{1}{2}$.

Démontrer que (V_k) est une suite géométrique.

- b) En déduire l'expression de U_k en fonction de k . Montrer que la suite (U_k) est convergente et préciser sa limite.

3. Dans cette question, on suppose que $n = 10$.

Déterminer pour quelles valeurs de k on a : $0,4999 \leq P_k \leq 0,5$.

EXERCICE 2 (5 points)

- Soit l'équation (E) : $(x, y) \in \mathbb{Z}^2$, $8x + 9y = -10$.
 - Montrer que si (x, y) est une solution de (E) alors 2 divise y .
 - Résoudre l'équation (E).
- Soit $(O; \vec{i}, \vec{j}, \vec{k})$ un repère orthonormal d'unité 1cm de l'espace.
 - Placer les points $A \begin{pmatrix} 1 \\ 0 \\ 3 \end{pmatrix}$, $B \begin{pmatrix} -4 \\ 1 \\ 0 \end{pmatrix}$ et $C \begin{pmatrix} 1 \\ -1 \\ 1 \end{pmatrix}$.
 - Déterminer une équation cartésienne du plan P contenant les points A, B et C.
 - Calculer le volume du tétraèdre OABC et en déduire la distance du point O au plan P.
- Soit P' le plan d'équation $3x - y + 5z = 0$.
 - Montrer que P et P' se coupent suivant une droite (Δ) dont on donnera une représentation paramétrique.
 - Montrer que les coordonnées des points de (Δ) vérifient l'équation (E).
 - En déduire l'ensemble (F) des points de (Δ) dont les coordonnées sont des entiers relatifs.

PROBLEME (11 points)

L'objet du problème est l'étude de quelques propriétés de la fonction f définie sur \mathbb{R} par :

$$f(x) = e^{-x} \sin x.$$

On note (C) sa courbe représentative dans un repère orthogonal $(O; \vec{i}, \vec{j})$ où l'unité de longueur est de 2 cm sur Ox et de 10 cm sur Oy .

Partie A : Dans cette partie on cherche à représenter f .

- Calculer f' et vérifier que : $f'(x) = \sqrt{2}e^{-x} \cos\left(x + \frac{\pi}{4}\right)$.
 - Résoudre sur l'intervalle $[0; 2\pi]$ l'inéquation $\cos\left(x + \frac{\pi}{4}\right) > 0$.
En déduire le signe de f' sur l'intervalle $[0; 2\pi]$.
- Dresser sur l'intervalle $[0; 2\pi]$, le tableau de variation de f .
Préciser les tangentes à (C) aux deux extrémités de l'intervalle.
- On note (C_1) et (C_2) les représentations graphiques, dans le repère choisi, des deux fonctions :
 $x \mapsto e^{-x}$ et $x \mapsto -e^{-x}$.
 - Donner les abscisses sur l'intervalle $[0; 2\pi]$ des points où (C) rencontre (C_1) et (C_2)
 - Vérifier qu'en chacun des points communs précédents, les courbes (C) et (C_1) d'une part, (C) et (C_2) d'autre part, ont même tangente.
 - Représenter sur l'intervalle $[0; 2\pi]$ les courbes (C), (C_1) et (C_2) .
- On note ϕ l'application qui au point M de coordonnées $(x; y)$ associe le point M' de coordonnées $(x'; y')$ définies par :
$$\begin{cases} x' = x + 2\pi \\ y' = e^{-2\pi} y \end{cases}$$
Soit (C') l'image de (C) par ϕ . Montrer que $(C') = (C)$.

Partie B : Dans cette partie on étudie une primitive de f .

1. a) Résoudre l'équation différentielle : $y''+2y'+2y=0$ (1). En déduire la solution de (1) qui prend en zéro la valeur zéro et dont la dérivée prend en zéro la valeur un.

b) En observant que si g est une solution de (1) on a : $g = -\frac{1}{2}(2g'+g'')$, donner une primitive de g en fonction de g et g' .

En déduire une primitive de f puis l'intégrale : $F(x) = \int_0^x e^{-t} \sin t dt$.

2. On pose $B_k = \int_{k\pi}^{(k+1)\pi} f(t)dt$ où k est un entier positif ou nul.

Soit $S_n = B_0 + B_1 + \dots + B_n$. Exprimer S_n à l'aide de la fonction F .

En déduire que la suite (S_n) admet une limite que l'on précisera.

3. a) Donner, sans calculer l'intégrale, le signe de B_k suivant la parité de l'entier k .

b) Calculer B_0 puis B_k pour tout entier k positif. Vérifier que $B_k = (-1)^k e^{-k\pi} B_0$.

c) Calculer $T_n = |B_0| + |B_1| + \dots + |B_n|$. Montrer que T_n admet une limite lorsque n tend vers l'infini. Préciser cette limite.

d) On pose $S = \lim_{n \rightarrow +\infty} S_n$ et $T = \lim_{n \rightarrow +\infty} T_n$. Vérifier que l'on a la relation : $\frac{1}{S} + \frac{1}{T} = \frac{2}{B_0}$.

Partie C : Etude de la limite d'une suite.

Soit la suite (u_n) de nombres réels définie par $u_n = \frac{1}{n}(\sqrt[n]{2} + \sqrt[n]{4} + \dots + \sqrt[n]{2^n})$, $n \in \mathbb{N}^*$.

On pose $I = \int_0^1 2^t dt$ et $h(t) = 2^t$. On partage le segment $[0 ; 1]$ en n segments de même longueur $\frac{1}{n}$

par les points $x_0 = 0$; $x_1 = \frac{1}{n}$; ... ; $x_i = \frac{i}{n}$; ... ; $x_n = 1$

a) Calculer I .

b) Démontrer que : $\forall i \in \{1; 2; \dots; n\}, \frac{1}{n}h(x_{i-1}) \leq \int_{x_{i-1}}^{x_i} h(t)dt \leq \frac{1}{n}h(x_i)$.

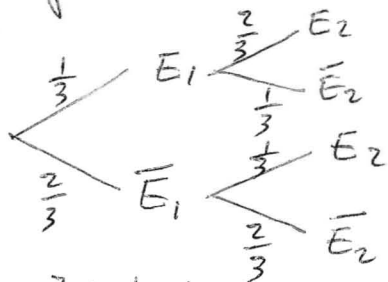
c) En déduire un encadrement de I et la limite de (u_n) en $+\infty$.

Exercice 1

1° a - $P(E_1) = \frac{1}{3}$ $P(E_2|E_1) = \frac{2}{3}$
 $P(\bar{E}_1) = \frac{2}{3}$ $P(E_2|\bar{E}_1) = \frac{1}{3}$
 avec $E_2 = (E_1 \cap E_2) \cup (\bar{E}_1 \cap E_2)$ et la
 formule des probabilités totales
 puis la formule des probabilités
 composées on a :

$$\begin{aligned} P(E_2) &= P(E_1 \cap E_2) + P(\bar{E}_1 \cap E_2) \\ &= P(E_1) \times P(E_2|E_1) + P(\bar{E}_1) P(E_2|\bar{E}_1) \\ &= \frac{1}{3} \times \frac{2}{3} + \frac{2}{3} \times \frac{1}{3} \\ &= \frac{4}{9} \text{ donc } \boxed{P(E_2) = \frac{4}{9}} \end{aligned}$$

R₉ L'élève peut faire l'arbre de
 Probabilité
 suivant.



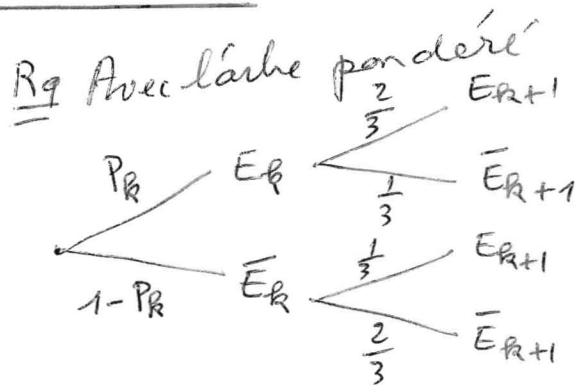
$$P(E_2) = \frac{1}{3} \times \frac{2}{3} + \frac{2}{3} \times \frac{1}{3} = \frac{4}{9}$$

b° $1 \leq k \leq n$ $P(E_k) = P_R$

$E_{R+1} = (E_R \cap E_{R+1}) \cup (\bar{E}_R \cap E_{R+1})$
 avec les mêmes formules on a :

$$\begin{aligned} P_{R+1} &= P(E_{R+1}) \\ &= P(E_R \cap E_{R+1}) + P(\bar{E}_R \cap E_{R+1}) \\ &= P(E_R) P(E_{R+1}|E_R) + P(\bar{E}_R) P(E_{R+1}|\bar{E}_R) \\ &= \frac{2}{3} P(E_R) + \frac{1}{3} (1 - P(E_R)) \\ &= \frac{2}{3} P_R + \frac{1}{3} (1 - P_R) \\ &= \frac{1}{3} P_R + \frac{1}{3} \text{ d'où la relation} \end{aligned}$$

de récurrence $\boxed{P_{R+1} = \frac{1}{3} P_R + \frac{1}{3}}$



on obtient

$$P_{R+1} = \frac{2}{3} P_R + \frac{1}{3} (1 - P_R) = \frac{1}{3} P_R + \frac{1}{3}$$

et $P_{R+1} = \frac{1}{3} P_R + \frac{1}{3}$ avec $1 \leq k \leq n$

2° $\begin{cases} u_1 = \frac{1}{3} \\ u_{R+1} = \frac{1}{3} u_R + \frac{1}{3} \end{cases} \quad R \geq 1$

et $v_R = u_R - \frac{1}{2}, \quad R \geq 1$

a) $v_{R+1} = u_{R+1} - \frac{1}{2} = \frac{1}{3} u_R + \frac{1}{3} - \frac{1}{2} = \frac{1}{3} u_R - \frac{1}{6}$

$v_{R+1} = \frac{1}{3} (u_R - \frac{1}{2}) = \frac{1}{3} v_R$ donc la
 suite (v_R) est une suite géométrique
 de raison $\frac{1}{3}$ et de premier terme $v_1 = -\frac{1}{6}$

b) on a : $v_R = v_1 \cdot 3^{R-1} = (-\frac{1}{6}) (\frac{1}{3})^{R-1}$

ou encore $v_R = (-\frac{1}{2}) (\frac{1}{3}) (\frac{1}{3})^{R-1}$ et $\boxed{v_R = -\frac{1}{2} (\frac{1}{3})^R}$

avec $v_R = u_R - \frac{1}{2}$ on a $u_R = v_R + \frac{1}{2}$

et $\boxed{u_R = -\frac{1}{2} (\frac{1}{3})^R + \frac{1}{2} = \frac{1}{2} (1 - (\frac{1}{3})^R)}$

$0 < \frac{1}{3} < 1$ $\lim_{R \rightarrow +\infty} (\frac{1}{3})^R = 0$ et $\lim_{R \rightarrow +\infty} u_R = \frac{1}{2}$

La suite (u_R) converge vers $\frac{1}{2}$.

3° $n = 0$ $P_R = u_R = \frac{1}{2} - \frac{1}{2} (\frac{1}{3})^R$

$0,4999 \leq P_R \leq 0,5 \Leftrightarrow$

$0,4999 \leq \frac{1}{2} - \frac{1}{2} (\frac{1}{3})^R \leq 0,5 \Leftrightarrow -0,0001 \leq -\frac{1}{2} (\frac{1}{3})^R \leq 0$

$\Leftrightarrow 0 \leq (\frac{1}{3})^R \leq 2 \times 10^{-4} \Rightarrow -R \ln 3 \leq \ln 2 \cdot 10^{-4}$

$\Rightarrow R \geq \frac{-\ln 2 \cdot 10^{-4}}{\ln 3} \Rightarrow R \geq 7,75$

avec $1 \leq k \leq 10$ on a $\boxed{R \in \{8, 9, 10\}}$

EXERCICE 2

1° (E) : $(x, y) \in \mathbb{Z}^2$, $8x + 9y = -10$

a) Montrons que si (x, y) est une solution de (E) Alors 2 divise y.

si (x, y) est solution de (E) on a

$$8x + 9y = -10 \text{ et } 9y = 2(-5 - 4x)$$

ainsi 2 divise $9y$, or 2 et 9 sont premiers entre eux, d'après le

théorème de Gauss 2 divise y.

b) Résolvons l'équation (E).

$8(1) + 9(-2) = -10$ et $(1, -2)$ est une solution de (E).

$$8x + 9y = -10 \Leftrightarrow 8x + 9y = 8(1) + 9(-2)$$

$$\Leftrightarrow 8(x - 1) = 9(-2 - y) \Leftrightarrow$$

9 divise $8(x - 1)$ or 9 et 8 sont premiers entre eux, d'après le

théorème de Gauss 9 divise $x - 1$,

ainsi il existe un entier relatif k tel que $x - 1 = 9k$

et alors $x = 1 + 9k$ puis

$$8(9k) = \dots \text{ et } -2 - y = 8k.$$

donc $y = -2 - 8k$ d'où

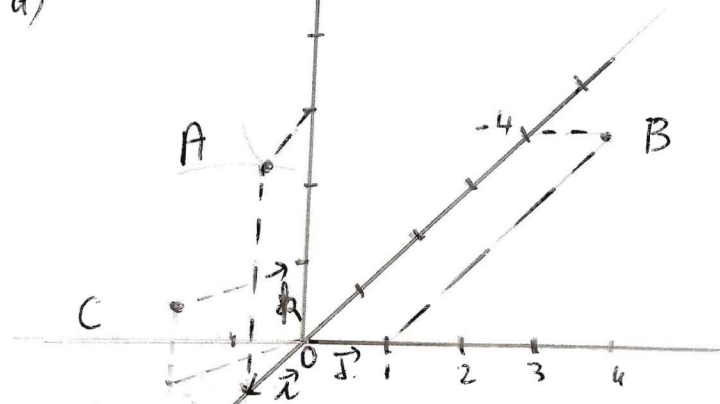
$$S_{\mathbb{Z}^2} = \left\{ (1 + 9k; -2 - 8k), k \in \mathbb{Z} \right\}$$

Rq on a aussi

$$S_{\mathbb{Z}^2} = \left\{ (1 - 9k; -2 + 8k), k \in \mathbb{Z} \right\}$$

2° $(0, \vec{i}, \vec{j}, \vec{k}) \mathbb{R} \cdot 0 \cdot \mathbb{N}_0$

a)



b)

$$A \begin{pmatrix} 1 \\ 0 \\ 3 \end{pmatrix} \quad B \begin{pmatrix} -4 \\ 1 \\ 0 \end{pmatrix} \quad C \begin{pmatrix} 1 \\ -1 \\ 1 \end{pmatrix}$$

$$\vec{AB} \begin{pmatrix} -5 \\ 1 \\ -3 \end{pmatrix} \quad \vec{AC} \begin{pmatrix} 0 \\ -1 \\ -2 \end{pmatrix} \quad P = (ABC)$$

$\vec{AB} \wedge \vec{AC} \begin{pmatrix} -5 \\ -10 \\ 5 \end{pmatrix}$ est un vecteur normal de P, de même $\vec{n} \begin{pmatrix} -1 \\ -2 \\ 1 \end{pmatrix}$ est un vecteur normal de P car \vec{n} colinéaire à $\vec{AB} \wedge \vec{AC}$. Une équation de P est de la forme $-x - 2y + z + d = 0$

avec $A \begin{pmatrix} 1 \\ 0 \\ 3 \end{pmatrix} \in P$ on a $-1 + 3 + d = 0$

$$\text{et } d = -2$$

une équation cartésienne de P

est alors $-x - 2y + z - 2 = 0$

ou encore

$$x + 2y - z + 2 = 0$$

c) calculons le volume du tétraèdre OABC.

$$V = \frac{1}{6} |(\vec{AB} \wedge \vec{AC}) \cdot \vec{AO}| \\ = \frac{1}{6} |-10| = \frac{10}{6} = \frac{5}{3} \text{ u.v}$$

d'eau $\boxed{v = \frac{5}{3} \text{ cm}^3}$ Par ailleurs

$$v = \frac{1}{3} B \times h = \frac{1}{3} \times \frac{1}{2} \|\vec{AB} \wedge \vec{AC}\| \times h$$

donc $d(O, P) = h = \frac{6v}{\|\vec{AB} \wedge \vec{AC}\|}$ or

$$\|\vec{AB} \wedge \vec{AC}\| = \sqrt{150} = 5\sqrt{6} \text{ et}$$

$$d(O, P) = h = \frac{6 \times \frac{5}{3}}{5\sqrt{6}} = \frac{2}{\sqrt{6}} = \frac{\sqrt{6}}{3}$$

ainsi la distance du point O au plan P est $\boxed{\frac{\sqrt{6}}{3}}$

3° P' $3x - y + 5z = 0$ $\vec{m}_1 \begin{pmatrix} 3 \\ -1 \\ 5 \end{pmatrix}$

P $x + 2y - z + 2 = 0$ $\vec{m}_2 \begin{pmatrix} 1 \\ 2 \\ -1 \end{pmatrix}$

$\vec{m}_2 \wedge \vec{m}_1 \begin{pmatrix} 9 \\ -8 \\ -7 \end{pmatrix}$ on a $\vec{m}_2 \wedge \vec{m}_1 \neq \vec{0}$

Les vecteurs normaux des plans P et P' ne sont pas colinéaires donc P et P' se coupent suivant une droite (D) de vecteur directeur $\vec{m}_2 \wedge \vec{m}_1 \begin{pmatrix} 9 \\ -8 \\ -7 \end{pmatrix}$

De plus le point D $\begin{pmatrix} 1 \\ -2 \\ -1 \end{pmatrix}$ vérifie

$$\begin{cases} 3(1) - (-2) + 5(-1) = 5 - 5 = 0 \\ 1 + 2(-2) + 1 + 2 = 4 - 4 = 0 \end{cases}$$

ce qui traduit que le point D est commun aux deux

plans P et P' et D appartient

à (D). Une équation paramétr.

de (D) est :

$$\begin{cases} x = 1 + 9t \\ y = -2 - 8t \\ z = -1 - 7t \end{cases} t \in \mathbb{R}$$

Méthode 2

$$\begin{cases} x + 2y - z + 2 = 0 \\ 3x - y + 5z = 0 \end{cases} \Rightarrow \begin{cases} 5x + 10y - 5z + 10 = 0 \\ 3x - y + 5z = 0 \end{cases}$$

$$\underline{\hspace{10em}} \hspace{1em} 8x + 9y + 10 = 0$$

D'après 1b les solutions de $8x + 9y = -10$ sont de la forme $\begin{cases} x = 1 + 9t \\ y = -2 - 8t \end{cases}$ et

$z = x + 2y + 2 = -1 + 7t$ ainsi une représentation paramétrique de

(D) est $\begin{cases} x = 1 + 9t \\ y = -2 - 8t \\ z = -1 + 7t \end{cases} t \in \mathbb{R}$

Méthode 3 on exprime x et y en

fonction de z puis on pose $z = t$

(D) $\begin{cases} x + 2y - z + 2 = 0 \\ 3x - y + 5z = 0 \end{cases} \Rightarrow \begin{cases} x = -\frac{2}{7} - \frac{9}{7}t \\ y = -\frac{6}{7} + \frac{8}{7}t \\ z = t \end{cases}$

b) $8(1 + 9t) + 9(-2 - 8t) = -10$

donc les coordonnées des points de (D) vérifient (E).

c) L'ensemble (F) des points de (D) dont les coordonnées sont des entiers relatifs est

(F) $\begin{cases} x = 1 + 9k \\ y = -2 - 8k \\ z = -1 - 7k \end{cases} k \in \mathbb{Z}$

Rq Avec la méthode 3 et les congruences modulo 7 on retrouve un résultat équivalent.

PROBLEME

Partie A

$f(x) = e^{-x} \sin x, x \in \mathbb{R}$

1° a) les fonctions $x \mapsto e^{-x}$ et $x \mapsto \sin x$ sont dérivables sur \mathbb{R} donc f est dérivable sur \mathbb{R} et $\forall x \in \mathbb{R}$

$f'(x) = -e^{-x} \sin x + e^{-x} \cos x$
 $= e^{-x} (\cos x - \sin x) = \sqrt{2} e^{-x} (\frac{\sqrt{2}}{2} \cos x - \frac{\sqrt{2}}{2} \sin x)$

$= \sqrt{2} e^{-x} (\cos \frac{\pi}{4} \cos x - \sin \frac{\pi}{4} \sin x)$

$= \sqrt{2} e^{-x} (\cos(x + \frac{\pi}{4}))$ donc

$f'(x) = \sqrt{2} e^{-x} \cos(x + \frac{\pi}{4}) \forall x \in \mathbb{R}$

b) Résolvons $\cos(x + \frac{\pi}{4}) > 0$ avec $x \in [0; 2\pi]$

$\cos(x + \frac{\pi}{4}) > 0 \Leftrightarrow x + \frac{\pi}{4} \in]-\frac{\pi}{2} + 2k\pi; \frac{\pi}{2} + 2k\pi[$

$(\Leftrightarrow x \in]-\frac{3\pi}{4} + 2k\pi; \frac{\pi}{4} + 2k\pi[$

en tenant compte de $x \in [0; 2\pi]$ on a :

$(]-\frac{3\pi}{4} + 2k\pi; \frac{\pi}{4} + 2k\pi[) \cap [0; 2\pi] =$

$S = [0; \frac{\pi}{4}[\cup]\frac{5\pi}{4}; 2\pi]$

Rq: $S = (I_0 \cup I_1) \cap [0; 2\pi]$

$k=0$ et $k=1$

Signe de $f'(x)$ sur $[0; 2\pi]$

$\forall x \in [0; 2\pi] \sqrt{2} e^{-x} > 0$ donc $f'(x)$

est de signe de $\cos(x + \frac{\pi}{4})$

x	0	$\frac{\pi}{4}$	$\frac{5\pi}{4}$	2π
$f'(x)$	+	0	-	+

sur $[0; \frac{\pi}{4}[\cup]\frac{5\pi}{4}; 2\pi]$ $f' > 0$

sur $]\frac{\pi}{4}; \frac{5\pi}{4}[$ $f' < 0$

c) Tableau de variation de f

(4)

x	0	$\frac{\pi}{4}$	$\frac{5\pi}{4}$	2π
$f'(x)$	+	0	-	+
$f(x)$	0	$\frac{1}{\sqrt{2}} e^{-\frac{\pi}{4}}$	$-\frac{1}{\sqrt{2}} e^{-\frac{5\pi}{4}}$	0

• Tangente en O (0; 0); $f(0)=0$ $f'(0)=1$

$(T_0) Y = x$

• Tangente en A (2π; 0). $f(2\pi)=e^{-2\pi}$ et $f'(2\pi)=0$

$(T_{2\pi}) Y = e^{-2\pi} (x - 2\pi)$

2° $(C_1) y = e^{-x}$; $(C_2) y = -e^{-x}$

a) • Déterminons $(C_1) \cap (C)$ au $[0; 2\pi]$

$\left. \begin{array}{l} x \in [0; 2\pi] \\ e^{-x} \sin x = e^{-x} \end{array} \right\} \Leftrightarrow \left. \begin{array}{l} x \in [0; 2\pi] \\ \sin x = 1 \end{array} \right\}$

$\Leftrightarrow x = \frac{\pi}{2}$ (C_1) et (C) se rencontrent au point d'abscisse $\frac{\pi}{2}$

• Déterminons $(C_2) \cap (C)$

$\left. \begin{array}{l} x \in [0; 2\pi] \\ e^{-x} \sin x = -e^{-x} \end{array} \right\} \Leftrightarrow \left. \begin{array}{l} x \in [0; 2\pi] \\ \sin x = -1 \end{array} \right\} \Rightarrow x = \frac{3\pi}{2}$

(C_2) et (C) se rencontrent au point d'abscisse $\frac{3\pi}{2}$

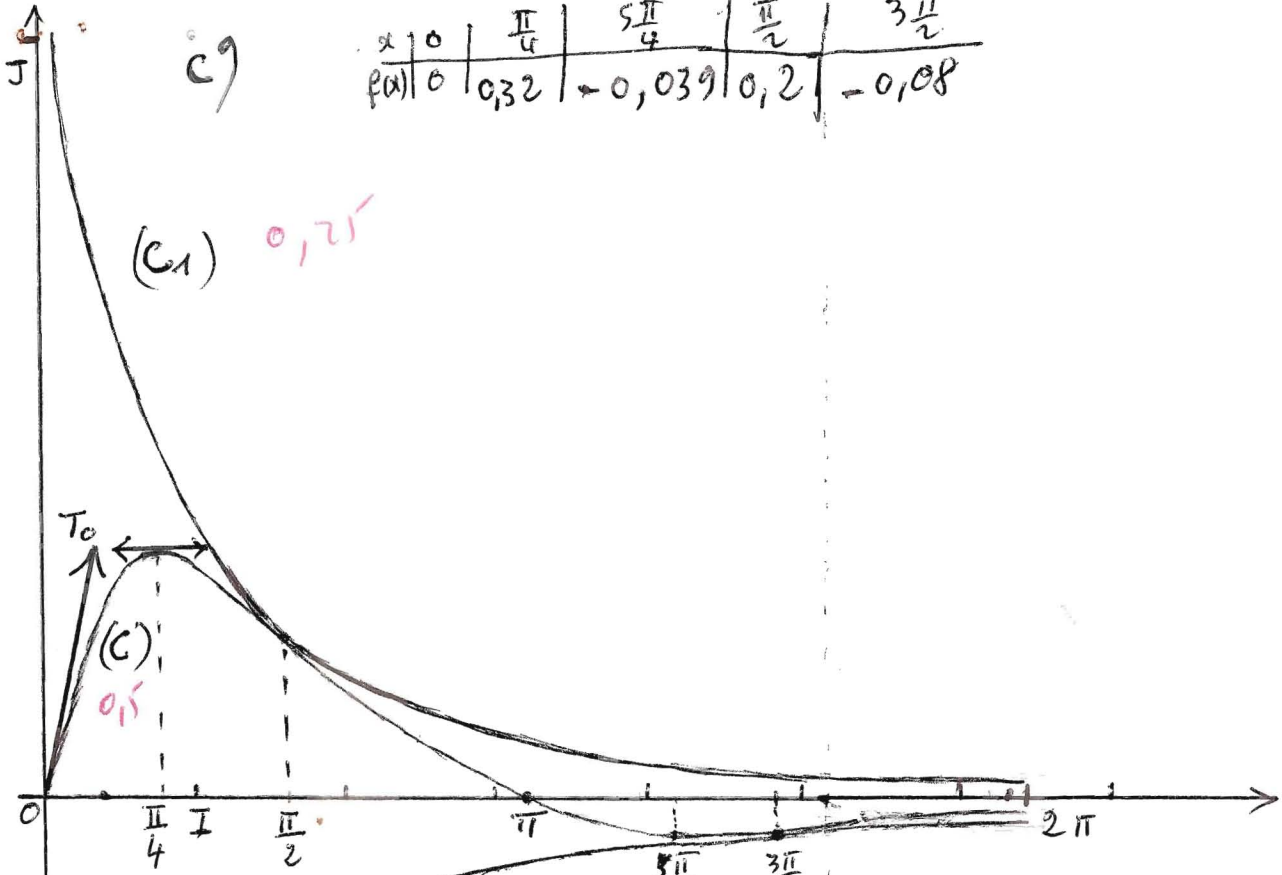
Rq $(C_1) \cap (C) = \{(\frac{\pi}{2}; e^{-\frac{\pi}{2}})\}$
 $(C_2) \cap (C) = \{(\frac{3\pi}{2}; -e^{-\frac{3\pi}{2}})\}$

b) Il suffit de montrer qu'en chacun de ces points les tangentes ont resp. les mêmes coefficients directeurs.

Soit $g(x) = e^{-x}$ et $h(x) = -e^{-x}$ on a :

$g'(x) = -e^{-x}$ $h'(x) = e^{-x}$
 $g'(\frac{\pi}{2}) = -e^{-\frac{\pi}{2}}$ $h'(3\frac{\pi}{2}) = e^{-\frac{3\pi}{2}}$
 $f'(\frac{\pi}{2}) = -e^{-\frac{\pi}{2}}$ $f'(3\frac{\pi}{2}) = -e^{-\frac{3\pi}{2}}$

$g'(\frac{\pi}{2}) = f'(\frac{\pi}{2})$ et $g(\frac{\pi}{2}) = f(\frac{\pi}{2})$ donc (C) et (C_1) ont même tangente au point d'abscisse $\frac{\pi}{2}$ et sont donc tangents en ce point. De même (C_2) et (C) sont tangents au pt $(\frac{3\pi}{2}; -e^{-\frac{3\pi}{2}})$



x	0	$\frac{\pi}{4}$	$\frac{5\pi}{4}$	$\frac{3\pi}{2}$	2π
$f(x)$	0	0,32	-0,039	0,2	-0,08

c)

(c1) 0,25

(c) 0,15

0,25

(c2)

$$\phi: \mathcal{P} \rightarrow \mathcal{P}$$

$$M \mapsto M' \text{ tq}$$

$$3^\circ \begin{cases} x' = x + 2\pi \\ y' = e^{-2\pi} y \end{cases} \Leftrightarrow \begin{cases} x = x' - 2\pi \\ y = y' e^{2\pi} \end{cases}$$

$$M(x, y) \in (c) \Leftrightarrow y = e^{-x} \sin x$$

$$\Leftrightarrow y' e^{2\pi} = e^{-(x-2\pi)} \sin(x-2\pi)$$

$$\Leftrightarrow y' e^{2\pi} = e^{-x'} e^{2\pi} \sin x'$$

$$\Leftrightarrow y' = e^{-x'} \sin x' \quad 0,15$$

$$\Leftrightarrow M'(x', y') \in (c)$$

$$\text{d'où } \boxed{\phi(c) = (c)} \text{ et } (c)' = c$$

Partie B 1° a) Résolvons

(1) $y'' + 2y' + 2y = 0$ L'équation caractéristique de (1) est

$$x^2 + 2x + 2 = 0 \quad \Delta = -4 = (2i)^2$$

$x_1 = -1 + i$ et $x_2 = -1 - i$. Avec

$x = -1 + i$ on a $u = -1$, $v = 1$ et les solutions de (1) sont les fonctions définies sur \mathbb{R} et de la forme

$$y = e^{-x} (A \cos x + B \sin x) \quad 0,15$$

Déterminons la solution qui vérifie $y(0) = 0$ et $y'(0) = 1$

$$y(0) = 0 \Leftrightarrow A = 0$$

$$y'(x) = -e^{-x} (A \cos x + B \sin x) + e^{-x} (-A \sin x + B \cos x)$$

$$y'(0) = 1 \Leftrightarrow A + B = 1 \Leftrightarrow B = 1$$

En conclusion $A = 0$ et $B = 1$ et 0,15

La fonction cherchée est $y = e^{-x} \sin x$ or $f(x) = e^{-x} \sin x$, ainsi la fonction cherchée est f avec $f(x) = e^{-x} \sin x$.

b) Si g est une solution de (1) alors
 $g'' + 2g' + 2g = 0$ et on a: $g = -\frac{1}{2}(2g' + g'')$
 par suite une primitive de g en
 fonction de g et g' est $G = -\frac{1}{2}(g + g')$
 ou encore $G = -g - \frac{1}{2}g'$ 0,25

f étant une solution de (1) une
 primitive de f est $-f - \frac{1}{2}f'$ et

$$F(x) = \int_0^x e^{-t} \sin t dt = -\left[f + \frac{1}{2}f' \right]_0^x$$

$$F(x) = -\left(f(x) + \frac{1}{2}f'(x) - f(0) - \frac{1}{2}f'(0) \right)$$

$$F(x) = -\left(e^{-x} \sin x + \frac{1}{2} \sqrt{2} e^{-x} \cos\left(x + \frac{\pi}{4}\right) - \frac{1}{2} \right)$$

$$F(x) = -\left(e^{-x} \sin x + \frac{\sqrt{2}}{2} \cos\left(x + \frac{\pi}{4}\right) \right) + \frac{1}{2}$$

$$F(x) = -e^{-x} \left(\sin x + \frac{\sqrt{2}}{2} \times \frac{\sqrt{2}}{2} (\cos x - \sin x) \right) + \frac{1}{2}$$

$$F(x) = -e^{-x} \left(\sin x + \frac{1}{2} \cos x - \frac{1}{2} \sin x \right) + \frac{1}{2}$$

$$F(x) = -\frac{1}{2} e^{-x} (\sin x + \cos x) + \frac{1}{2} \quad \forall x \in \mathbb{R}$$

Rq Accepter toutes les formes de F(x).

$$2. B_k = \int_{k\pi}^{(k+1)\pi} f(t) dt \quad k \in \mathbb{N}$$

$$\begin{aligned} S_m &= B_0 + B_1 + \dots + B_m \\ &= \int_0^\pi f dt + \int_\pi^{2\pi} f dt + \dots + \int_{m\pi}^{(m+1)\pi} f dt \\ &= \int_0^{(m+1)\pi} f(t) dt \quad \text{d'après la relat° de Chasles} \end{aligned}$$

$$S_m = F[(m+1)\pi] \quad \text{d'après 1b de B.}$$

$$\text{avec } F(x) = -\frac{1}{2} e^{-x} (\sin x + \cos x) + \frac{1}{2}$$

$$\begin{aligned} S_m &= -\frac{1}{2} e^{-(m+1)\pi} (\sin(m+1)\pi + \cos(m+1)\pi) + \frac{1}{2} \\ &= -\frac{1}{2} e^{-(m+1)\pi} (-1)^{m+1} + \frac{1}{2} \quad \text{car} \end{aligned}$$

$$\sin(m+1)\pi = 0 \quad \text{et } \cos(m+1)\pi = (-1)^{m+1}$$

d'au $S_m = (-1)^{m+1} \times \frac{1}{2} e^{-(m+1)\pi} + \frac{1}{2}$ 0,25

$$S_m = (-1)^{m+1} \times \frac{1}{2} e^{-(m+1)\pi} + \frac{1}{2} \quad \forall m \in \mathbb{N}$$

$$\lim_{m \rightarrow +\infty} \frac{1}{2} e^{-(m+1)\pi} = 0 \quad \text{car } (-1)^m = 1 \text{ ou } -1$$

donc $\lim_{m \rightarrow +\infty} (-1)^{m+1} \times \frac{1}{2} e^{-(m+1)\pi} = 0$ par suite

$$\lim_{m \rightarrow +\infty} S_m = \frac{1}{2} \quad 0,25$$

$$\text{Rq } \lim_{m \rightarrow +\infty} \left| (-1)^{m+1} \times \frac{1}{2} e^{-(m+1)\pi} \right| = \lim_{m \rightarrow +\infty} \frac{1}{2} e^{-(m+1)\pi} = 0$$

par suite $\lim_{m \rightarrow +\infty} S_m = \frac{1}{2}$

3° a) Signe de B_k suivant la parité de k.

• si $k = 2p$ on a $\sin t > 0$ si $x \in [2p\pi; (2p+1)\pi]$
 et $f(t) = e^{-t} \sin t > 0$ et $B_k = \int_{k\pi}^{(k+1)\pi} f dt > 0$ 0,25

• si $k = 2p+1$ $\sin t \leq 0$ si $x \in [(2p+1)\pi; (2p+2)\pi]$
 et $f(t) = e^{-t} \sin t \leq 0$ et $B_k = \int_{k\pi}^{(k+1)\pi} f dt \leq 0$ 0,25

Ainsi si k est pair $B_k > 0$ et
 si k est impair $B_k \leq 0$.

$$b) B_0 = \int_0^\pi f dt = F(\pi) - F(0) = \frac{1}{2} (e^{-\pi} + 1)$$
 0,25

Rappelons Avec $F(x) = \int_0^x e^{-t} \sin t dt$ F
 est la primitive de f qui s'annule en 0.

$$B_k = \int_{k\pi}^{(k+1)\pi} f(t) dt = [F]_{k\pi}^{(k+1)\pi}$$

$$B_k = F[(k+1)\pi] - F(k\pi)$$

$$B_k = \left(-\frac{1}{2} e^{-(k+1)\pi} (-1)^{k+1} + \frac{1}{2} \right) - \left(-\frac{1}{2} e^{-k\pi} (-1)^k + \frac{1}{2} \right)$$

$$B_k = -\frac{1}{2} e^{-(k+1)\pi} \times (-1)^{k+1} + \frac{1}{2} e^{-k\pi} (-1)^k$$

$$B_k = (-1)^k \frac{1}{2} e^{-k\pi} (e^{-\pi} + 1) \quad 0,25$$

Rq Accepter l'1 des 3 derniers résultats,
 exprimons B_k en fonction de B_0

avec $B_0 = \frac{1}{2} e^{-\pi} + 1$ on a

$$B_k = (-1)^k e^{-k\pi} B_0 \quad 0,25$$

c) $T_n = |B_0| + |B_1| + \dots + |B_m|$
 $|B_k| = |(-1)^k e^{-k\pi} B_0| = e^{-k\pi} B_0$ d'où
 $T_n = B_0 (1 + e^{-\pi} + \dots + e^{-n\pi}) = B_0 \left(\sum_{k=0}^n e^{-k\pi} \right)$
 or $\sum_{k=0}^n (e^{-\pi})^k$ est la somme des $n+1$ premiers termes d'une suite géométrique de premier terme 1 et de raison $e^{-\pi} \neq 1$
 ainsi $\sum_{k=0}^n e^{-k\pi} = \frac{1 - e^{-(n+1)\pi}}{1 - e^{-\pi}}$ d'où
 $T_n = B_0 \frac{1 - e^{-(n+1)\pi}}{1 - e^{-\pi}} = \frac{1}{2} (e^{-\pi} + 1) \times \frac{1 - e^{-(n+1)\pi}}{1 - e^{-\pi}}$
 $T_n = \frac{1}{2} \frac{1 + e^{-\pi}}{1 - e^{-\pi}} (1 - e^{-(n+1)\pi})$ 0,15

cherchons la limite de T_n

$\lim_{n \rightarrow +\infty} e^{-(n+1)\pi} = 0$ donc $\lim_{n \rightarrow +\infty} T_n = \frac{1}{2} \frac{1 + e^{-\pi}}{1 - e^{-\pi}}$ 0,22

d) avec $S = \lim S_n$ et $T = \lim T_n$
 vérifions que $\frac{1}{S} + \frac{1}{T} = \frac{2}{B_0}$

$S = \lim_{n \rightarrow +\infty} S_n = \frac{1}{2}$ et $T = \lim_{n \rightarrow +\infty} T_n = \frac{1}{2} \frac{1 + e^{-\pi}}{1 - e^{-\pi}}$
 $\frac{1}{S} = 2$ et $\frac{1}{T} = \frac{2(1 - e^{-\pi})}{1 + e^{-\pi}}$
 $\frac{1}{S} + \frac{1}{T} = 2 + \frac{2(1 - e^{-\pi})}{1 + e^{-\pi}} = \frac{2(1 + e^{-\pi}) + 2(1 - e^{-\pi})}{1 + e^{-\pi}} = \frac{4}{1 + e^{-\pi}} = \frac{4}{2B_0} = \frac{2}{B_0}$ car $B_0 = \frac{1}{2}(1 + e^{-\pi})$
 donc $\frac{1}{S} + \frac{1}{T} = \frac{2}{B_0}$ 0,22

Partie c

a) $I = \int_0^1 2^t dt = \int_0^1 e^{t \ln 2} dt = \frac{1}{\ln 2} [2^t]_0^1$
 $I = \frac{1}{\ln 2} (2 - 1) = \frac{1}{\ln 2}$ et $I = \frac{1}{\ln 2}$ 0,15

b) Soit $h(t) = 2^t$ $a = 2 > 1$ donc h étant une fonction exponentielle de base a avec $a > 1$ et strictement croissante sur \mathbb{R} donc sur $[0, 1]$.

$\forall m \in \mathbb{N}^* [x_{i-1}, x_i] \subset [0, 1]$ avec $x_i = \frac{i}{m} \forall i \in \{1, 2, \dots, m\}$. En tenant de $x_i - x_{i-1} = \frac{1}{m}$ on a avec h stricto sensu croissant.
 $\forall t \in [x_{i-1}, x_i]$ on a $x_{i-1} \leq t \leq x_i$ donc $h(x_{i-1}) \leq h(t) \leq h(x_i)$ et en utilisant l'inégalité de la moyenne ou une intégration membre à membre on a:
 $\forall i \in \{1, 2, \dots, m\} \frac{1}{m} h(x_{i-1}) \leq \int_{x_{i-1}}^{x_i} h(t) dt \leq \frac{1}{m} h(x_i)$
 par addition et avec la relation de Charles on a:
 $\frac{1}{m} \sum_{i=1}^m h\left(\frac{i-1}{m}\right) \leq I \leq \frac{1}{m} \sum_{i=1}^m h\left(\frac{i}{m}\right)$
 ou encore $\frac{1}{m} \sum_{i=0}^{m-1} h\left(\frac{i}{m}\right) \leq I \leq \frac{1}{m} \sum_{i=1}^m h\left(\frac{i}{m}\right)$
 et $h\left(\frac{i}{m}\right) = 2^{\frac{i}{m}} = (2^i)^{\frac{1}{m}} = \sqrt[m]{2^i}$
 avec $u_m = \frac{1}{m} \sum_{i=1}^m \sqrt[m]{2^i}$ et $\frac{1}{m} (h(0) - h(1)) = -\frac{1}{m} (2^0 - 2^1) = -\frac{1}{m}$
 on a: $u_m - \frac{1}{m} \leq I \leq u_m \forall m$ 0,22
 or $u_m - \frac{1}{m} \leq I \Rightarrow u_m \leq \frac{1}{m} + I$
 Ainsi $I \leq u_m \leq \frac{1}{m} + I$ et $\lim_{m \rightarrow +\infty} \frac{1}{m} = 0$
 d'où $\lim_{m \rightarrow +\infty} u_m = I = \frac{1}{\ln 2}$ par encadrement. 0,22